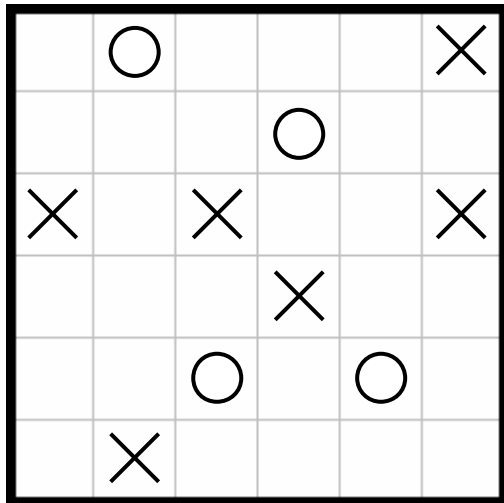


めいろやしき

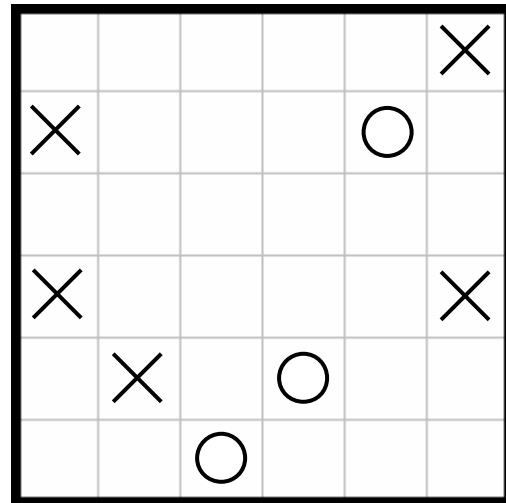
全体が一つながりになった建物の内部を明らかにしてください

・○はT字路 ×は行き止まり 何もないところはただの通路になります

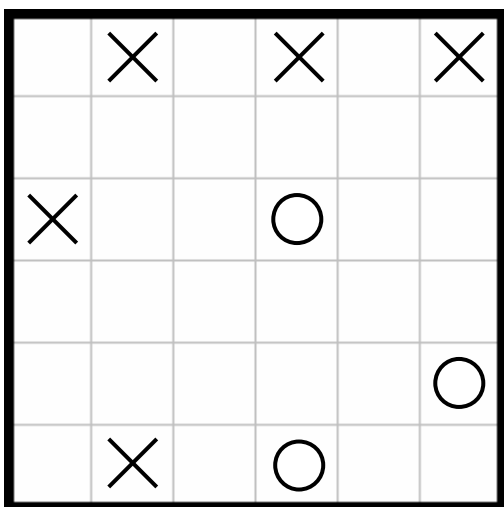
【例題】	【解答】																																
<table border="1" style="width: 100%; height: 100%;"> <tr><td></td><td>○</td><td></td><td></td></tr> <tr><td>×</td><td></td><td></td><td>×</td></tr> <tr><td></td><td></td><td>○</td><td></td></tr> <tr><td>×</td><td></td><td></td><td>×</td></tr> </table>		○			×			×			○		×			×	<table border="1" style="width: 100%; height: 100%;"> <tr><td></td><td>○</td><td></td><td></td></tr> <tr><td>×</td><td>┃</td><td>┃</td><td>×</td></tr> <tr><td></td><td>┃</td><td>┃</td><td></td></tr> <tr><td>×</td><td>┃</td><td>┃</td><td>×</td></tr> </table>		○			×	┃	┃	×		┃	┃		×	┃	┃	×
	○																																
×			×																														
		○																															
×			×																														
	○																																
×	┃	┃	×																														
	┃	┃																															
×	┃	┃	×																														



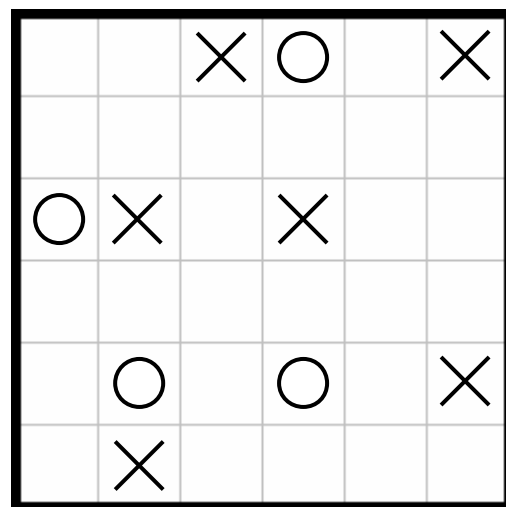
(1)



(2)



(3)



(4)